



Prefeitura Municipal de Piúma
Secretaria Municipal de Educação


COLETÂNEA DE ATIVIDADES PEDAGÓGICAS PLANEJADAS PELOS DOCENTES DA REDE MUNICIPAL DE PIÚMA.

Caro(a) aluno(a),

- ❖ Você está recebendo uma avaliação e uma Folha de Respostas.
- ❖ Comece escrevendo seu nome Completo e turma
- ❖ Leia com atenção antes de responder e marque suas respostas neste caderno.
- ❖ Cada questão tem uma única resposta correta.
- ❖ Faça um X na opção que você escolher como certa, conforme exemplos na página seguinte.
- ❖ Procure não deixar questão sem resposta.
- ❖ Transcreva suas respostas para a Folha de Respostas, utilizando caneta de tinta azul ou preta, e encaminhefoto do cartão resposta para seu professor

DIAGNÓSTICO 1º ANO

01. OBSERVE O NOME DA CRIANÇA ABAIXO:




AUGUSTO

O nome da criança tem:

- A 5 LETRAS
B 8 LETRAS
C 9 LETRAS
D 7 LETRAS

02. MARQUE UM X NA FIGURA QUE SÓ APARECE LETRAS.



03. OBSERVE A HISTORINHA E VEJA .QUAL É A RESPOSTA CERTA:



- A O CÃO É MUITO BRAVO.
B O CÃO DORME DENTRO DA SALA.
C PAULO CUIDA BEM DO SEU CÃO.
D O CÃO DE PAULO NÃO TOMA BANHO.

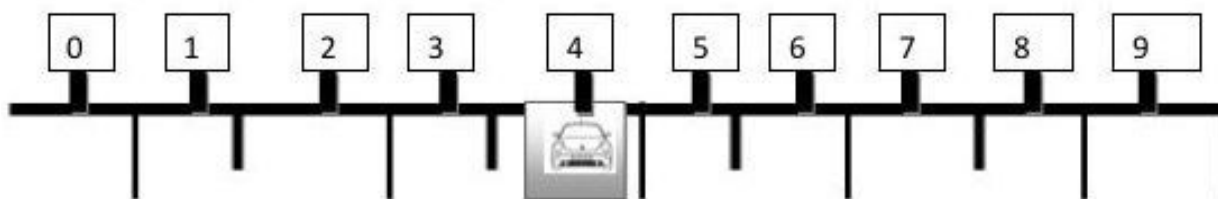
04. MARQUE UM X ONDE ESTÁ ESCRITO O NOME DO DESENHO CORRETAMENTE.



- A) BOL B)BLAO C) BOLA D) BALAO

05. OBSERVE O ESTACIONAMENTO DO SUPERMERCADO

BRETA:



O NÚMERO DA VAGA EM QUE O CARRO ESTÁ ESTACIONADO É:

- (A) 4 (B) 5 (C) 6 (D) 7

06. RAFAEL PEDIU UM X – SALADA, BATATA FRITA , UM SUCO.

X-SALADA	5 REAIS		
REFRIGERANTE	2 REAIS		
BATATA FRITA	3 REAIS		
SUCO	2 REAIS		
CACHORRO-QUENTE	4 REAIS		

O LANCHE DE RAFAEL CUSTOU:

- (A) 8 REAIS (C) 10 REAIS
(B) 9 REAIS (D) 11 REAIS

07. VEJA O CHAPEUZINHO DO ANIVERSÁRIO DA ELIANA.



QUAL DAS FIGURAS ABAIXO TEM A MESMA FORMA DO CHAPEUZINHO?



A)



B)



C)



D)

08. SANDRA TEM UM AQUÁRIO COM 7 PEIXES. O PAI DE SANDRA TROUXE MAIS 5 PEIXES. FAÇA UM X NO QUADRADINHO QUE MOSTRA COM QUANTOS PEIXES SANDRA FICOU.

- A) 2
- B) 12
- C) 10
- D) 13



9-PORQUE É IMPORTANTE TER UMA ALIMENTAÇÃO SAUDÁVEL?

- A- PARA FICAR DOENTE B- PARA TER SAÚDE C – POR NADA D- NÃO SEI

10-SOBRE O CORPO HUMANO. RESPONDA:

ADIVINHA

Altos cabelos

Lindas janelas

Abrem e fecham

Ninguém mora nelas.



O QUE É?

- A- NARIZ B-MÃOS C- OUVIDOS D- BOCA

11-LEIA O TEXTO E RESPONDA:

JANELAS DO CORPO

A mãe disse para Miguel quando foi adormecer:

_Os olhos permitem ver as cores e tudo o que se passa à nossa volta.

As orelhas ajudam o ouvido a escolher os sons.

E com o nariz podemos cheirar o perfume das flores.

_ E a língua? – interrompeu Miguel.

_ Ela distingue o doce, o salgado, o azedo, o amargo.

Assim como a pele sente o calor e o frio.

Nesse momento Miguel adormeceu.

Aida Marcuse.



QUE ORGÃOS DOS SENTIDOS TE PERMITE SENTIR O PERFUME DAS FLORES?

A- NARIZ

B – BOCA

C-OLHOS

D-OUVIDOS

12- O CORPO HUMANO SE DIVIDE EM:


A- BOCA E OLHOS

B- PÊS E MÃOS

C- CABELO, CABEÇA E ROSTO

D- CABEÇA, TRONCO E MEMBROS

13-OBSERVE A IMAGEM:



O QUE ELA REPRESENTA:

A-FASES DA VIDA

B- PESSOAS

C- BRINCADEIRAS

D-UM MENINO

14-DE ACORDO COM OS DESENHOS OS NOMES DAS BRINCADEIRAS SÃO:



A-BOLA-PETECA-DADO B-BONECA-DOMINÒ-BOLA C-PIPA-AMARELINHA-PIÃO D- PIÃO-BOLA-DADO

15- OBSERVE A TIRINHA:



ALÉM DO CHICO BENTO, QUEM É OUTRO PERSONAGEM DO TEXTO?

A-SURPEVISORA B- PROFESSORA C-DIRETORA D-COORDENADORA

16-ONDE ACONTECE A CENA EM QUE O CHICO BENTO ESTÁ?

A-CASA B-RUA C-PADARIA D-ESCOLA


17-RESPONDA:



QUAL É O NOME DA SUA CIDADE?

A-PIUMA B- ANCHIETA C-ITAPEMIRIM D-ICONHA

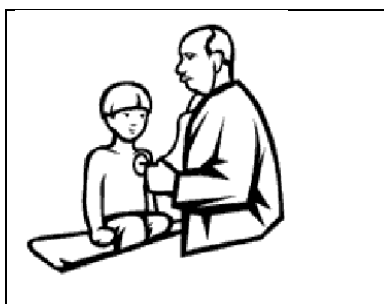
18-FAMÍLIA É ONDE NOSSA HISTÓRIA COMEÇA.RESPONDA:



O PAI DA MINHA MÃE É O MEU?

- A- TIO B- AVÔ C-PRIMO D- IRMÃO

19-QUAL É A PROFISSÃO?



- A-MÉDICO B- PROFESSOR C-PEDREIRO D- MOTORISTA

VAMOS RECITAR POESIA?

AINDA NÃO SEI

Ainda não sei,
o que vou ser.
Padeiro ou professor
Quando crescer...

Ainda não sei,
o que vou escolher
Profissões variadas
qual delas vou merecer?...

20- O TEXTO FALA SOBRE?

- A-CRIANÇAS B- PADEIRO C- NUVENS D-PROFISSÕES

21- EM INGLÊS ESCREVO AZUL, AMARELO, VERDE:

- A) GREEN, YELLOW, BLUE B) BLUE, YELLOW, GREEN
B) RED, DARK, GOLD D) GREEN, BLUE, RED

22- PASSE PARA O INGLÊS: GATO,CACHORRO:

- A) GAT, COCONUT B) CATO, FORRE
C) CAT, DOG D) ANT, GIRAFFE

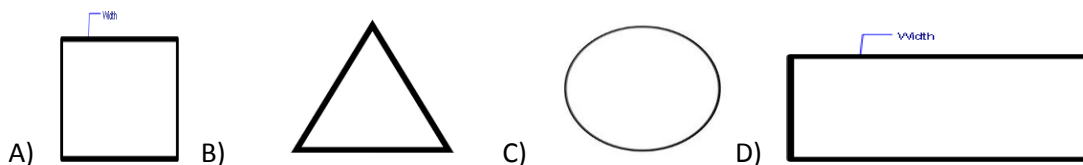
23- MAÇÃ em inglês é:

- A) ANANA B) PINEAPPLE
D) COCONUT D) APPLE

24- HOUSE em inglês é:

- A) CASA B) BONECA
E) ESTRELA D) LUA

25- DAS FIGURAS ABAIXO, QUAL POSSUI TRÊS LADOS :




26- VAMOS FAZER UMA FESTA NA ESCOLA ,OS ALUNOS QUE DANÇARÃO QUADRILHA PRECISAM PROVIDENCIAR SUAS ROUPAS. OS MENINOS USARÃO CHAPÉUS E AS MENINAS VESTIDOS ESTAMPADOS E RODADOS .

ASSINALE QUE FESTA É ESSA:

- A)- DA PRIMAVERA B)-PÁSCOA C)-JUNINA D)-NATALINA

27- QUAL FORMA GEOMÉTRICA APARECE NO TELHADO?



- a) QUADRADO B) TRIÂNGULO C) CÍRCULO D) RETÂNGULO

28) EM NOSSAS AULAS DE EDUCAÇÃO FÍSICA REALIZAMOS UMA ATIVIDADE QUE ENVOLVEU A COORDENAÇÃO MOTORA FINA (COORDENAÇÃO DAS MÃOS), NO QUAL O ALUNO DEVERIA PARTICIPAR DE UMA DISPUTA REALIZANDO O MOVIMENTO DE “PETELECO” OU “EMPURRANDO COM O DEDO INDICADOR” UM OBJETO PARA MOVIMENTA-LO ATÉ A LINHA DE CHEGADA. QUE BRINCADEIRA FOI ESSA?

- A – () BATATA QUENTE.
B – () ATRAVESSANDO O RIO.
C – () CORRIDA DE TAMPINHAS.
D – () BOCA DE FORNO.

29) O MOVIMENTO DE “ZIGUE E ZAGUE” EXECUTADO ENTRE OS “CONES” (ENTRE AS GARRAFAS OU OBJETOS) NA AULA DE EDUCAÇÃO FÍSICA, FOI REALIZADO EM QUAL ATIVIDADE?

- A – () CIRCUITO DE CORRIDAS.
B – () CIRCUITO DE DANÇAS.
C – () CIRCUITO DE SALTOS.
D – () CIRCUITO DE GINÁSTICA.

30) A DANÇA É UM OBJETO DE CONHECIMENTO DA EDUCAÇÃO FÍSICA. EM NOSSAS AULAS TRABALHAMOS ESSE CONTEÚDO DE QUE FORMA?

- A – () EXPERIMENTANDO VÁRIOS RITMOS DE MÚSICA.
B – () ATRAVÉS DAS CANTIGAS DE RODA.
C – () ESTUDANDO O BALÉ.
D – () DANÇANDO O FREVO.