



Prefeitura Municipal de Piúma
Secretaria Municipal de Educação

COLETÂNIA DE ATIVIDADES PEDAGÓGICAS PLANEJADAS PELOS DOCENTES DA REDE MUNICIPAL DE PIÚMA
Estudante realize as atividades no seu caderno.

ATIVIDADES DO 2º ANO -MATEMÁTICA E EDUCAÇÃO FÍSICA

CONTINUE A ESCREVER OS NUMERAIS EM PALAVRAS.

1 UM

U	
---	--

2 DOIS

D			
---	--	--	--

3 TRÊS

T			
---	--	--	--

4 QUATRO

Q					
---	--	--	--	--	--

5 CINCO

C				
---	--	--	--	--

6 SEIS

S			
---	--	--	--

7 SETE


S			
---	--	--	--

8 OITO

O			
---	--	--	--

9 NOVE

N			
---	--	--	--



1.ESCREVA OS NÚMEROS:


DOIS _____

CINCO _____

SETE _____

QUATRO _____

TRÊS _____



UM _____

SEIS _____

NOVE _____

OITO _____

DEZ _____

2. COMPLETE AS SEQUÊNCIAS COM OS NÚMEROS FALTOSOS.

1		3	4				8		10
---	--	---	---	--	--	--	---	--	----

	2			5		7			
--	---	--	--	---	--	---	--	--	--

1			4		6		8	9	
---	--	--	---	--	---	--	---	---	--

3. QUEM VEM ANTES E DEPOIS:

_____ 3 _____ _____ 7 _____ _____ 8 _____

_____ 5 _____ _____ 9 _____ _____ 4 _____




Prefeitura Municipal de Piúma
Secretaria Municipal de Educação

COLETÂNIAS DE ATIVIDADES PEDAGÓGICAS PLANEJADAS PELOS DOCENTES DA REDE MUNICIPAL DE PIÚMA

Estudante realize as atividades no seu caderno.

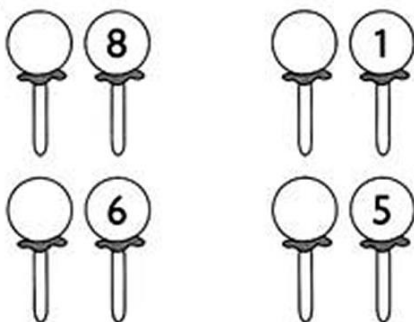


OBSERVE:

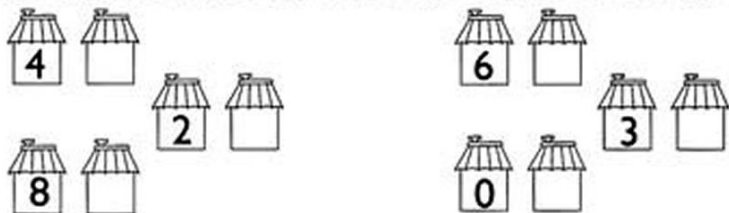


OS NUMERAIS 4 E 6 SÃO VIZINHOS DO 5.

1) ESCREVA O NUMERAL QUE VEM ANTES DE:




2) AGORA, ESCREVA O NUMERAL QUE VEM DEPOIS DE:



COMPLETE A SEQUÊNCIA NUMÉRICA:

0	1	2							
10									
20									
30									
40									





Prefeitura Municipal de Piúma
Secretaria Municipal de Educação

COLETÂNI A DE ATIVIDADES PEDAGÓGICAS PLANEJADAS PELOS DOCENTES DA REDE MUNICIPAL DE PIÚMA

Estudante realize as atividades no seu caderno.




ESCOLHENDO RESULTADOS

1) Resolva as operações e, depois, circule o resultado ao lado.

$4 + 5 =$	8
	9
	7

$4 + 3 =$	6
	8
	7



7	9
+ 2	7
	6

3	5
+ 2	4
	3

4	5
+ 2	6
	7

4	9
+ 4	7
	8

6	7
+ 3	8
	9

2	6
+ 6	7
	8

8	2
- 5	4
	3

5	0
- 4	1
	2

$9 - 6 =$	2
	3
	4

$5 - 0 =$	0
	5
	6

$7 - 7 =$	0
	1
	2

$8 - 4 =$	4
	3
	2

$9 - 4 =$	3
	5
	4

$6 - 5 =$	0
	1
	2

- 1- Observe a figura abaixo:
- 2- Com a ajuda de um adulto responda: qual o nome dessa brincadeira de rua?
- 3- Como se joga?
- 4- Com a ajuda de um adulto, que tal construir uma amarelinha em casa para brincar? Pode ser utilizado giz, cordas ou até bambolês para montar.
- 5- Peça que a mamãe, papai ou algum parente lhe mostre como se joga.

